











Jugadores: 2, 3 ó 4











El mecanismo: El jugador que obtiene el mayor resultado al realizar la operación, se lleva todas las cartas y las deposita al fondo.











Objetivo: gana la partida en que tenga más cartas al final del tiempo establecido.













## OPERACIONES COMBINADAS 2

|   |  |  |   |  |
|---|--|--|---|--|
| <p>¿CUÁNTO PAGO?<br/>JERARQUÍA II</p> <p>Averigua cuánto paga o recibe, una persona que compra y devuelve artículos.</p> <p><b>16-11-3</b></p>  <p>tallerdematematicas.com</p> | <p>¿CUÁNTO PAGO?<br/>JERARQUÍA II</p> <p>Averigua cuánto paga una persona que compra y devuelve artículos.</p> <p><b>19-7-4</b></p>  <p>tallerdematematicas.com</p> | <p>¿CUÁNTO PAGO?<br/>JERARQUÍA II</p> <p>Averigua cuánto paga una persona que compra y devuelve artículos.</p> <p><b>20-11-5</b></p>  <p>tallerdematematicas.com</p> | <p>¿CUÁNTO PAGO?<br/>JERARQUÍA II</p> <p>Averigua cuánto paga una persona que compra y devuelve artículos.</p> <p><b>21-4-12</b></p>  <p>tallerdematematicas.com</p> | <p>¿CUÁNTO PAGO?<br/>JERARQUÍA II</p> <p>Averigua cuánto paga una persona que compra y devuelve artículos.</p> <p><b>50-6+3</b></p>  <p>tallerdematematicas.com</p> |
| <p>¿CUÁNTO PAGO?<br/>JERARQUÍA II</p> <p>Averigua cuánto paga una persona que compra y devuelve artículos.</p> <p><b>12-11+7</b></p>   | <p>¿CUÁNTO PAGO?<br/>JERARQUÍA II</p> <p>Averigua cuánto paga una persona que compra y devuelve artículos.</p> <p><b>99-97+9</b></p>                              | <p>¿CUÁNTO PAGO?<br/>JERARQUÍA II</p> <p>Averigua cuánto paga una persona que compra y devuelve artículos.</p> <p><b>11-8+4</b></p>                               | <p>¿CUÁNTO PAGO?<br/>JERARQUÍA II</p> <p>Averigua cuánto paga una persona que compra y devuelve artículos.</p> <p><b>22-2+8</b></p>                                | <p>¿CUÁNTO PAGO?<br/>JERARQUÍA II</p> <p>Averigua cuánto paga una persona que compra y devuelve artículos.</p> <p><b>3-8+10</b></p>                               |

|  |  |   |  |   |
|--|--|---|--|---|
| <p>¿CUÁNTO PAGO?</p> <p>JERARQUÍA II</p> <p>Averigua cuánto paga una persona que compra y devuelve artículos.</p> <p><math>4 + 4 \cdot 3 - 5 \cdot 2</math></p>  <p>tallerdematematicas.com</p> | <p>¿CUÁNTO PAGO?</p> <p>JERARQUÍA II</p> <p>Averigua cuánto paga una persona que compra y devuelve artículos.</p> <p><math>6 + 3 \cdot 7 - 5 \cdot 4</math></p>  <p>tallerdematematicas.com</p> | <p>¿CUÁNTO PAGO?</p> <p>JERARQUÍA II</p> <p>Averigua cuánto paga una persona que compra y devuelve artículos.</p> <p><math>5 + 9 \cdot 2 - 3 \cdot 5</math></p>  <p>tallerdematematicas.com</p> | <p>¿CUÁNTO PAGO?</p> <p>JERARQUÍA II</p> <p>Averigua cuánto paga una persona que compra y devuelve artículos.</p> <p><math>6 + 9 \cdot 3 - 3 \cdot 8</math></p>  <p>tallerdematematicas.com</p> | <p>¿CUÁNTO PAGO?</p> <p>JERARQUÍA II</p> <p>Averigua cuánto paga una persona que compra y devuelve artículos.</p> <p><math>3 + 7 \cdot 10 - 7 \cdot 9</math></p>  <p>tallerdematematicas.com</p> |
| <p>¿CUÁNTO PAGO?</p> <p>JERARQUÍA II</p> <p>Averigua cuánto paga una persona que compra y devuelve artículos.</p> <p><math>-2 \cdot 3 + 1 \cdot 6</math></p>                                  | <p>¿CUÁNTO PAGO?</p> <p>JERARQUÍA II</p> <p>Averigua cuánto paga una persona que compra y devuelve artículos.</p> <p><math>-3 \cdot 4 + 5 \cdot 2</math></p>                                  | <p>¿CUÁNTO PAGO?</p> <p>JERARQUÍA II</p> <p>Averigua cuánto paga una persona que compra y devuelve artículos.</p> <p><math>5 \cdot 3 - 7 \cdot 2</math></p>                                  | <p>¿CUÁNTO PAGO?</p> <p>JERARQUÍA II</p> <p>Averigua cuánto paga una persona que compra y devuelve artículos.</p> <p><math>3 \cdot 5 - 3 \cdot 4</math></p>                                   | <p>¿CUÁNTO PAGO?</p> <p>JERARQUÍA II</p> <p>Averigua cuánto paga una persona que compra y devuelve artículos.</p> <p><math>8 \cdot 4 - 7 \cdot 4</math></p>                                    |

|   |   |  |   |  |
|---|---|--|---|--|
| <p>¿CUÁNTO PAGO?<br/>JERARQUÍA II</p> <p>Averigua cuánto paga una persona que compra y devuelve artículos.</p> <p><math>-2 + 2 \cdot 3 - 6</math></p>        | <p>¿CUÁNTO PAGO?<br/>JERARQUÍA II</p> <p>Averigua cuánto paga una persona que compra y devuelve artículos.</p> <p><math>+3 + 3 \cdot 4 - 5 \cdot 2</math></p>  | <p>¿CUÁNTO PAGO?<br/>JERARQUÍA II</p> <p>Averigua cuánto paga una persona que compra y devuelve artículos.</p> <p><math>-5 \cdot 3 - 7 + 22</math></p>  | <p>¿CUÁNTO PAGO?<br/>JERARQUÍA II</p> <p>Averigua cuánto paga una persona que compra y devuelve artículos.</p> <p><math>20 - 2 \cdot 5 - 3 \cdot 2</math></p>  | <p>¿CUÁNTO PAGO?<br/>JERARQUÍA II</p> <p>Averigua cuánto paga una persona que compra y devuelve artículos.</p> <p><math>2 + 8 \cdot 4 - 4</math></p>        |
| <p>¿CUÁNTO PAGO?<br/>JERARQUÍA II</p> <p>Averigua cuánto paga una persona que compra y devuelve artículos.</p> <p><math>-2 \cdot 3 + 3 \cdot 6</math></p>  | <p>¿CUÁNTO PAGO?<br/>JERARQUÍA II</p> <p>Averigua cuánto paga una persona que compra y devuelve artículos.</p> <p><math>-4 + 5 \cdot 2</math></p>            | <p>¿CUÁNTO PAGO?<br/>JERARQUÍA II</p> <p>Averigua cuánto paga una persona que compra y devuelve artículos.</p> <p><math>+20 - 7 \cdot 2</math></p>    | <p>¿CUÁNTO PAGO?<br/>JERARQUÍA II</p> <p>Averigua cuánto paga una persona que compra y devuelve artículos.</p> <p><math>3 \cdot 5 - 3 \cdot 4</math></p>     | <p>¿CUÁNTO PAGO?<br/>JERARQUÍA II</p> <p>Averigua cuánto paga una persona que compra y devuelve artículos.</p> <p><math>8 \cdot 4 - 7 \cdot 4</math></p>  |

|   |   |   |   |   |
|---|---|---|---|---|
| <p>¿CUÁNTO PAGO?<br/>JERARQUÍA II</p> <p>Averigua cuánto paga una persona que compra y devuelve artículos.</p> <p><math>2 \cdot 3 - (-6)</math></p>          | <p>¿CUÁNTO PAGO?<br/>JERARQUÍA II</p> <p>Averigua cuánto paga una persona que compra y devuelve artículos.</p> <p><math>3 \cdot 4 - (-2)</math></p>      | <p>¿CUÁNTO PAGO?<br/>JERARQUÍA II</p> <p>Averigua cuánto paga una persona que compra y devuelve artículos.</p> <p><math>5 \cdot 3 - (-7)</math></p>            | <p>¿CUÁNTO PAGO?<br/>JERARQUÍA II</p> <p>Averigua cuánto paga una persona que compra y devuelve artículos.</p> <p><math>3 \cdot 5 - (-14)</math></p>         | <p>¿CUÁNTO PAGO?<br/>JERARQUÍA II</p> <p>Averigua cuánto paga una persona que compra y devuelve artículos.</p> <p><math>4 \cdot (-2) + 10 + 4</math></p>     |
| <p>¿CUÁNTO PAGO?<br/>JERARQUÍA II</p> <p>Averigua cuánto paga una persona que compra y devuelve artículos.</p> <p><math>-2 \cdot 3 + 1 \cdot 6</math></p>  | <p>¿CUÁNTO PAGO?<br/>JERARQUÍA II</p> <p>Averigua cuánto paga una persona que compra y devuelve artículos.</p> <p><math>+5 + 4 - 4 \cdot 2</math></p>  | <p>¿CUÁNTO PAGO?<br/>JERARQUÍA II</p> <p>Averigua cuánto paga una persona que compra y devuelve artículos.</p> <p><math>4 \cdot 3 + 3 \cdot (-2)</math></p>  | <p>¿CUÁNTO PAGO?<br/>JERARQUÍA II</p> <p>Averigua cuánto paga una persona que compra y devuelve artículos.</p> <p><math>-3 \cdot 5 + 3 \cdot 4</math></p>  | <p>¿CUÁNTO PAGO?<br/>JERARQUÍA II</p> <p>Averigua cuánto paga una persona que compra y devuelve artículos.</p> <p><math>-2 \cdot 4 - 7 \cdot 4</math></p>  |

