












<p>¿CUÁNTO PAGO?</p> <p>JERARQUÍA I</p> <p>Averigua cuánto paga una persona que compra y devuelve artículos.</p> <p>2·3 - 1·6</p>  <p>tallerdematematicas.com</p>	<p>¿CUÁNTO PAGO?</p> <p>JERARQUÍA I</p> <p>Averigua cuánto paga una persona que compra y devuelve artículos.</p> <p>3·4 - 5·2</p>  <p>tallerdematematicas.com</p>	<p>¿CUÁNTO PAGO?</p> <p>JERARQUÍA I</p> <p>Averigua cuánto paga una persona que compra y devuelve artículos.</p> <p>5·3 - 7·2</p>  <p>tallerdematematicas.com</p>	<p>¿CUÁNTO PAGO?</p> <p>JERARQUÍA I</p> <p>Averigua cuánto paga una persona que compra y devuelve artículos.</p> <p>3·5 - 3·4</p>  <p>tallerdematematicas.com</p>	<p>¿CUÁNTO PAGO?</p> <p>JERARQUÍA I</p> <p>Averigua cuánto paga una persona que compra y devuelve artículos.</p> <p>8·4 - 7·4</p>  <p>tallerdematematicas.com</p>
<p>¿CUÁNTO PAGO?</p> <p>JERARQUÍA I</p> <p>Averigua cuánto paga una persona que compra y devuelve artículos.</p> <p>-2·3 + 1·6</p>  <p>tallerdematematicas.com</p>	<p>¿CUÁNTO PAGO?</p> <p>JERARQUÍA I</p> <p>Averigua cuánto paga una persona que compra y devuelve artículos.</p> <p>-3·4 + 5·2</p>  <p>tallerdematematicas.com</p>	<p>¿CUÁNTO PAGO?</p> <p>JERARQUÍA I</p> <p>Averigua cuánto paga una persona que compra y devuelve artículos.</p> <p>-5·3 + 7·2</p>  <p>tallerdematematicas.com</p>	<p>¿CUÁNTO PAGO?</p> <p>JERARQUÍA I</p> <p>Averigua cuánto paga una persona que compra y devuelve artículos.</p> <p>-3·5 + 3·4</p>  <p>tallerdematematicas.com</p>	<p>¿CUÁNTO PAGO?</p> <p>JERARQUÍA I</p> <p>Averigua cuánto paga una persona que compra y devuelve artículos.</p> <p>-8·4 + 7·4</p>  <p>tallerdematematicas.com</p>

¿CUÁNTO PAGO?

JERARQUÍA I

Averigua cuánto paga una persona que compra y devuelve artículos.

$$9 \cdot 3 - 5 \cdot 5$$




¿CUÁNTO PAGO?

JERARQUÍA I

Averigua cuánto paga una persona que compra y devuelve artículos.

$$3 \cdot 7 - 5 \cdot 4$$




¿CUÁNTO PAGO?

JERARQUÍA I

Averigua cuánto paga una persona que compra y devuelve artículos.

$$9 \cdot 2 - 3 \cdot 5$$




¿CUÁNTO PAGO?

JERARQUÍA I

Averigua cuánto paga una persona que compra y devuelve artículos.

$$9 \cdot 6 - 10 \cdot 5$$




¿CUÁNTO PAGO?

JERARQUÍA I

Averigua cuánto paga una persona que compra y devuelve artículos.

$$5 \cdot 7 - 6 \cdot 5$$




¿CUÁNTO PAGO?

JERARQUÍA I

Averigua cuánto paga una persona que compra y devuelve artículos.

$$-9 \cdot 3 + 5 \cdot 5$$




¿CUÁNTO PAGO?

JERARQUÍA I

Averigua cuánto paga una persona que compra y devuelve artículos.

$$-3 \cdot 7 + 5 \cdot 4$$




¿CUÁNTO PAGO?

JERARQUÍA I

Averigua cuánto paga una persona que compra y devuelve artículos.

$$-9 \cdot 2 + 3 \cdot 5$$




¿CUÁNTO PAGO?

JERARQUÍA I

Averigua cuánto paga una persona que compra y devuelve artículos.

$$-9 \cdot 6 + 10 \cdot 5$$














¿CUÁNTO PAGO?

JERARQUÍA I

Averigua cuánto paga una persona que compra y devuelve artículos.

$$-5 \cdot 7 + 6 \cdot 5$$




<p>¿CUÁNTO PAGO?</p> <p>JERARQUÍA I</p> <p>Averigua cuánto paga una persona que compra y devuelve artículos.</p> $-9 \cdot 7 + 64$  <p>tallerdematematicas.com</p>	<p>¿CUÁNTO PAGO?</p> <p>JERARQUÍA I</p> <p>Averigua cuánto paga una persona que compra y devuelve artículos.</p> $-8 \cdot 4 + 34$  <p>tallerdematematicas.com</p>	<p>¿CUÁNTO PAGO?</p> <p>JERARQUÍA I</p> <p>Averigua cuánto paga una persona que compra y devuelve artículos.</p> $-8 \cdot 6 + 51$  <p>tallerdematematicas.com</p>	<p>¿CUÁNTO PAGO?</p> <p>JERARQUÍA I</p> <p>Averigua cuánto paga una persona que compra y devuelve artículos.</p> $-9 \cdot 4 + 40$  <p>tallerdematematicas.com</p>	<p>¿CUÁNTO PAGO?</p> <p>JERARQUÍA I</p> <p>Averigua cuánto paga una persona que compra y devuelve artículos.</p> $-6 \cdot 4 + 19$  <p>tallerdematematicas.com</p>
<p>¿CUÁNTO PAGO?</p> <p>JERARQUÍA I</p> <p>Averigua cuánto paga una persona que compra y devuelve artículos.</p> $-64 + 9 \cdot 7$  <p>tallerdematematicas.com</p>	<p>¿CUÁNTO PAGO?</p> <p>JERARQUÍA I</p> <p>Averigua cuánto paga una persona que compra y devuelve artículos.</p> $-34 + 8 \cdot 4$  <p>tallerdematematicas.com</p>	<p>¿CUÁNTO PAGO?</p> <p>JERARQUÍA I</p> <p>Averigua cuánto paga una persona que compra y devuelve artículos.</p> $-51 + 8 \cdot 6$  <p>tallerdematematicas.com</p>	<p>¿CUÁNTO PAGO?</p> <p>JERARQUÍA I</p> <p>Averigua cuánto paga una persona que compra y devuelve artículos.</p> $-40 + 9 \cdot 4$  <p>tallerdematematicas.com</p>	<p>¿CUÁNTO PAGO?</p> <p>JERARQUÍA I</p> <p>Averigua cuánto paga una persona que compra y devuelve artículos.</p> $-19 + 6 \cdot 4$  <p>tallerdematematicas.com</p>

¿CUÁNTO PAGO?

JERARQUÍA I

Averigua cuánto paga una persona que compra y devuelve artículos.

$$-2 + 8 - 7$$




¿CUÁNTO PAGO?

JERARQUÍA I

Averigua cuánto paga una persona que compra y devuelve artículos.

$$-9 + 12 - 5$$




¿CUÁNTO PAGO?

JERARQUÍA I

Averigua cuánto paga una persona que compra y devuelve artículos.

$$-5 + 11 - 9$$




¿CUÁNTO PAGO?

JERARQUÍA I

Averigua cuánto paga una persona que compra y devuelve artículos.

$$-8 + 13 - 9$$




¿CUÁNTO PAGO?

JERARQUÍA I

Averigua cuánto paga una persona que compra y devuelve artículos.

$$-6 + 8 - 7$$




¿CUÁNTO PAGO?

JERARQUÍA I

Averigua cuánto paga una persona que compra y devuelve artículos.

$$+2 - 8 + 7$$




¿CUÁNTO PAGO?

JERARQUÍA I

Averigua cuánto paga una persona que compra y devuelve artículos.

$$+9 - 12 + 5$$




¿CUÁNTO PAGO?

JERARQUÍA I

Averigua cuánto paga una persona que compra y devuelve artículos.

$$+5 - 11 + 9$$




¿CUÁNTO PAGO?

JERARQUÍA I

Averigua cuánto paga una persona que compra y devuelve artículos.

$$+8 - 13 + 9$$




¿CUÁNTO PAGO?

JERARQUÍA I

Averigua cuánto paga una persona que compra y devuelve artículos.

$$+6 - 8 + 7$$



Jugadores: 2, 3 ó 4

El mecanismo: El jugador que obtiene el mayor resultado al realizar la operación, se lleva todas las cartas y las deposita al fondo.

Objetivo: gana la partida en que tenga más cartas al final del tiempo establecido.



OPERACIONES COMBINADAS I